

TEMA 12 – INICIACIÓN AL CÁLCULO DE DERIVADAS. APLICACIONES

TASA DE VARIACIÓN MEDIA DE UNA FUNCIÓN EN UN INTERVALO

EJERCICIO 1 : Halla la tasa de variación media de la siguiente función en el intervalo $[1, 2]$ e indica si $f(x)$ crece o decrece en ese intervalo: $f(x) = 2x^2 - 3x$

$$\text{Solución: T.V.M. } [1, 2] = \frac{f(2) - f(1)}{2 - 1} = \frac{2 - (-1)}{1} = \frac{(2+1)}{1} = \frac{3}{1} = 3$$

Como la tasa de variación media es positiva, la función es creciente en el intervalo $[1, 2]$.

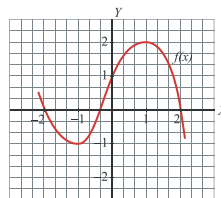
EJERCICIO 2 : Dada la función: $f(x) = (x - 1)^3$

Calcula la tasa de variación media en el intervalo $[0, 1]$. ¿Es creciente o decreciente la función en dicho intervalo?

$$\text{Solución: T.V.M. } [0, 1] = \frac{f(1) - f(0)}{1 - 0} = \frac{0 - (-1)}{1} = \frac{1}{1} = 1$$

Como la tasa de variación media es positiva, la función es creciente en este intervalo.

EJERCICIO 3 : Calcula la tasa de variación media de esta función, $f(x)$, en los intervalos siguientes e indica si la función crece o decrece en cada uno de dichos intervalos:



- a) $[-1, 0]$
b) $[1, 2]$

Solución:

$$\text{a) T.V.M. } [-1, 0] = \frac{f(0) - f(-1)}{0 - (-1)} = \frac{1 - (-1)}{1} = \frac{1+1}{1} = 2$$

Como la tasa de variación media es positiva, la función es creciente en $[-1, 0]$. (También se puede apreciar directamente en la gráfica).

$$\text{b) T.V.M. } [1, 2] = \frac{f(2) - f(1)}{2 - 1} = \frac{0 - 2}{1} = -2 \Rightarrow \text{La función decrece en este intervalo.}$$

DERIVADA DE UNA FUNCIÓN EN UN PUNTO, APLICANDO LA DEFINICIÓN

EJERCICIO 4 : Halla la derivada de la siguiente función en $x = 1$, aplicando la definición de derivada:

$$f(x) = x^2 + 1$$

$$\text{Solución: } f'(1) = \lim_{x \rightarrow 1} \frac{f(x) - f(1)}{x - 1} = \lim_{x \rightarrow 1} \frac{(x^2 + 1) - 2}{x - 1} = \lim_{x \rightarrow 1} \frac{x^2 - 1}{x - 1} = \lim_{x \rightarrow 1} \frac{(x - 1) \cdot (x + 1)}{x - 1} = \lim_{x \rightarrow 1} (x + 1) = 2$$

EJERCICIO 5 : Calcula, utilizando la definición de derivada, $f'(1)$ para la función $f(x) = \frac{x-1}{3}$.

$$\text{Solución: } f'(1) = \lim_{x \rightarrow 1} \frac{f(x) - f(1)}{x - 1} = \lim_{x \rightarrow 1} \frac{\frac{x-1}{3} - 0}{x - 1} = \lim_{x \rightarrow 1} \frac{1}{3} = \frac{1}{3}$$

EJERCICIO 6 : Halla la derivada de la función $f(x) = (x - 1)^2$ en $x = 2$, aplicando la definición de derivada

$$\text{Solución: } f'(2) = \lim_{x \rightarrow 2} \frac{f(x) - f(2)}{x - 2} = \lim_{x \rightarrow 2} \frac{(x - 1)^2 - 1}{x - 2} = \lim_{x \rightarrow 2} \frac{x^2 - 2x + 1 - 1}{x - 2} = \lim_{x \rightarrow 2} \frac{x^2 - 2x}{x - 2} = \lim_{x \rightarrow 2} \frac{x(x - 2)}{x - 2} = \lim_{x \rightarrow 2} x = 2$$

EJERCICIO 7 : Aplicando la definición de derivada, calcula $f'(1)$, siendo $f(x) = \frac{2}{x}$.

$$\text{Solución: } f'(1) = \lim_{x \rightarrow 1} \frac{f(x) - f(1)}{x - 1} = \lim_{x \rightarrow 1} \frac{\frac{2}{x} - 2}{x - 1} = \lim_{x \rightarrow 1} \frac{\frac{2 - 2x}{x}}{x - 1} = \lim_{x \rightarrow 1} \frac{2 - 2x}{(x - 1)x} = \lim_{x \rightarrow 1} \frac{2(1 - x)}{(x - 1)x} = \lim_{x \rightarrow 1} \frac{-2}{x} = -2$$

FUNCIÓN DERIVADA, APLICANDO LA DEFINICIÓN

EJERCICIO 8 : Halla $f'(x)$, aplicando la definición de derivada :

a) $f(x) = x^2 + 1$ b) $f(x) = \frac{x+1}{3}$ c) $f(x) = 2x^2$ d) $f(x) = \frac{1}{x}$ e) $f(x) = \frac{2x}{3}$

Solución:

$$\begin{aligned} \text{a) } f'(x) &= \lim_{h \rightarrow 0} \frac{f(x+h) - f(x)}{h} = \lim_{h \rightarrow 0} \frac{(x+h)^2 + 1 - (x^2 + 1)}{h} = \lim_{h \rightarrow 0} \frac{x^2 + h^2 + 2xh + 1 - x^2 - 1}{h} = \\ &= \lim_{h \rightarrow 0} \frac{h^2 + 2xh}{h} = \lim_{h \rightarrow 0} \frac{h(h + 2x)}{h} = \lim_{h \rightarrow 0} (h + 2x) = 2x \end{aligned}$$

$$\text{b) } f'(x) = \lim_{h \rightarrow 0} \frac{f(x+h) - f(x)}{h} = \lim_{h \rightarrow 0} \frac{\frac{x+h+1}{3} - \frac{x+1}{3}}{h} = \lim_{h \rightarrow 0} \frac{\frac{x+h+1-x-1}{3}}{h} = \lim_{h \rightarrow 0} \frac{\frac{h}{3}}{h} = \lim_{h \rightarrow 0} \frac{1}{3} = \frac{1}{3}$$

$$\begin{aligned} \text{c) } f'(x) &= \lim_{h \rightarrow 0} \frac{f(x+h) - f(x)}{h} = \lim_{h \rightarrow 0} \frac{2(x+h)^2 - 2x^2}{h} = \lim_{h \rightarrow 0} \frac{2(x^2 + h^2 + 2xh) - 2x^2}{h} = \lim_{h \rightarrow 0} \frac{2x^2 + 2h^2 + 4xh - 2x^2}{h} = \\ &= \lim_{h \rightarrow 0} \frac{2h^2 + 4xh}{h} = \lim_{h \rightarrow 0} \frac{h(2h + 4x)}{h} = \lim_{h \rightarrow 0} (2h + 4x) = 4x \end{aligned}$$

$$\begin{aligned} \text{d) } f'(x) &= \lim_{h \rightarrow 0} \frac{f(x+h) - f(x)}{h} = \lim_{h \rightarrow 0} \frac{\frac{1}{x+h} - \frac{1}{x}}{h} = \lim_{h \rightarrow 0} \frac{\frac{x - (x+h)}{x(x+h)}}{h} = \lim_{h \rightarrow 0} \frac{\frac{-h}{x(x+h)}}{h} = \lim_{h \rightarrow 0} \frac{-h}{hx(x+h)} = \\ &= \lim_{h \rightarrow 0} \frac{-1}{x(x+h)} = \frac{-1}{x^2} \end{aligned}$$

$$\text{e) } f'(x) = \lim_{h \rightarrow 0} \frac{f(x+h) - f(x)}{h} = \lim_{h \rightarrow 0} \frac{\frac{2(x+h)}{3} - \frac{2x}{3}}{h} = \lim_{h \rightarrow 0} \frac{\frac{2x+2h-2x}{3}}{h} = \lim_{h \rightarrow 0} \frac{\frac{2h}{3}}{h} = \lim_{h \rightarrow 0} \frac{2h}{3h} = \frac{2}{3}$$

CÁLCULO DE DERIVADAS INMEDIATAS

EJERCICIO 9 : Halla la función derivada de:

a) $f(x) = 3x^4 - 2x + 5$ b) $f(x) = e^x$ c) $f(x) = 2x^3 - x^2 + 1$ d) $f(x) = \ln x$
 e) $f(x) = 2x^5 + \frac{x}{3}$ f) $f(x) = \text{sen } x$ g) $f(x) = x^3 - 3x^2 + \frac{1}{5}$ h) $f(x) = \cos x$
 i) $f(x) = 4x^3 - 3x^2 + 2$ j) $f(x) = \text{tg } x$ k) $f(x) = \frac{x^2 + 2}{2x + 1}$ l) $f(x) = xe^x$
 m) $f(x) = \frac{3x - 1}{x^2 - 2}$ n) $f(x) = x^2 \text{sen } x$ ñ) $f(x) = \frac{1 - x^2}{x - 3}$ o) $f(x) = x \ln x$
 p) $f(x) = \sqrt{x} + \frac{2}{x}$ q) $f(x) = \frac{3x + 1}{e^x}$ r) $f(x) = \frac{3x^2}{2x + 3}$ s) $f(x) = \sqrt[3]{x} \cdot \text{sen } x$

Solución:

a) $f'(x) = 12x^3 - 2$ b) $f'(x) = e^x$ c) $f'(x) = 6x^2 - 2x$ d) $f'(x) = \frac{1}{x}$
 e) $f'(x) = 10x^4 + \frac{1}{3}$ f) $f'(x) = \cos x$ g) $f'(x) = 3x^2 - 6x$ h) $f'(x) = -\text{sen } x$

i) $f'(x) = 12x^2 - 6x$ j) $f'(x) = 1 + \operatorname{tg}^2 x = \frac{1}{\cos^2 x}$

k) $f'(x) = \frac{2x(2x+1) - (x^2+2) \cdot 2}{(2x+1)^2} = \frac{4x^2+2x-2x^2-4}{(2x+1)^2} = \frac{2x^2+2x-4}{(2x+1)^2}$ l) $f'(x) = e^x + xe^x = (1+x)e^x$

m) $f'(x) = \frac{3(x^2-2) - (3x-1)2x}{(x^2-2)^2} = \frac{3x^2-6-6x^2+2x}{(x^2-2)^2} = \frac{-3x^2+2x-6}{(x^2-2)^2}$ n) $f'(x) = 2x \operatorname{sen} x + x^2 \cos x$

ñ) $f'(x) = \frac{-2x(x-3) - (1-x^2)}{(x-3)^2} = \frac{-2x^2+6x-1+x^2}{(x-3)^2} = \frac{-x^2+6x-1}{(x-3)^2}$ o) $f'(x) = \ln x + x \cdot \frac{1}{x} = \ln x + 1$

p) $f'(x) = \frac{1}{2\sqrt{x}} - \frac{2}{x^2}$ q) $f'(x) = \frac{3e^x - (3x+1)e^x}{(e^x)^2} = \frac{e^x(3-3x-1)}{(e^x)^2} = \frac{2-3x}{e^x}$

r) $f'(x) = \frac{6x(2x+3) - 3x^2 \cdot 2}{(2x+3)^2} = \frac{12x^2+18x-6x^2}{(2x+3)^2} = \frac{6x^2+18x}{(2x+3)^2}$

s) $f'(x) = \frac{1}{3} x^{-2/3} \operatorname{sen} x + x^{1/3} \cdot \cos x = \frac{1}{3\sqrt[3]{x^2}} \operatorname{sen} x + \sqrt[3]{x} \cdot \cos x$

CÁLCULO DE DERIVADAS

EJERCICIO 10 : Halla la función derivada de:

a) $f(x) = (3x^2 + x)^4$	b) $f(x) = \sqrt{4x^3 + 1}$	c) $f(x) = e^{4x^3-2x}$	d) $f(x) = \ln(3x^4 - 2x)$
e) $f(x) = \operatorname{sen}\left(\frac{x+1}{2x-3}\right)$	f) $f(x) = 3x^4 - \frac{9x^2}{3}$	g) $f(x) = \frac{3x^2-2}{x^2-1}$	h) $f(x) = xe^x$
i) $f(x) = 8x^5 - 2x^3 + \frac{1}{3}$	j) $f(x) = (x^4 - 3x)e^x$	k) $f(x) = \operatorname{sen}\left(\frac{x}{x^2-1}\right)$	l) $f(x) = \frac{3x^4}{2} - \frac{6x^3}{5}$
m) $f(x) = \frac{x^2-3}{2x^3+1}$	n) $f(x) = \ln(x^4 - 2x)$	ñ) $f(x) = \frac{-2x^4+3x^2}{5}$	o) $f(x) = \frac{3x-4}{x^2+3x}$
p) $f(x) = \sqrt{2x^3-3}$	q) $f(x) = \frac{1}{2}x^4 - \frac{3}{5}x^7$	r) $f(x) = e^x \cdot \operatorname{sen} x$	s) $f(x) = \cos\left(\frac{3x}{x^2+2}\right)$
t) $f(x) = 4x^5 - \frac{2x}{3}$	u) $f(x) = (x^2 - 3x)e^x$	v) $f(x) = \operatorname{sen}\left(\frac{x-1}{x^2+1}\right)$	
w) $f(x) = -x^7 + \frac{3}{4}x - 1$	x) $f(x) = \frac{4x^3-3}{x^2-1}$	y) $f(x) = e^{7x^4-3}$	
z) $f(x) = 9x^2 - 3x^4 + \frac{1}{3}$	1) $f(x) = \frac{3x^3}{4-x^2}$	2) $f(x) = \ln(2x^5 + 3x)$	
3) $f(x) = \frac{-3x^5+2x}{7}$	4) $f(x) = x^4 \cos x$	5) $f(x) = e^{\frac{x^2+1}{x-1}}$	
6) $f(x) = \frac{4x^6}{3} - 2x + 5$	7) $f(x) = \frac{2x}{x^2+1}$	8) $f(x) = \sqrt{2x-3x^4}$	

Solución:

a) $f'(x) = 4(3x^2 + x)^3 \cdot (6x+1)$

b) $f'(x) = \frac{1}{2\sqrt{4x^3+1}} \cdot 12x^2 = \frac{12x^2}{2\sqrt{4x^3+1}} = \frac{6x^2}{\sqrt{4x^3+1}}$

c) $f'(x) = e^{4x^3-2x} \cdot (12x^2 - 2)$

$$d) f'(x) = \frac{1}{3x^4 - 2x} \cdot (12x^3 - 2) = \frac{12x^3 - 2}{3x^4 - 2x}$$

$$e) f'(x) = \cos\left(\frac{x+1}{2x-3}\right) \cdot \frac{(2x-3) - (x+1)2}{(2x-3)^2} = \frac{2x-3-2x-2}{(2x-3)^2} \cdot \cos\left(\frac{x+1}{2x-3}\right) = \frac{-5}{(2x-3)^2} \cdot \cos\left(\frac{x+1}{2x-3}\right)$$

$$f) f'(x) = 12x^3 - \frac{18x}{3}$$

$$g) f'(x) = \frac{6x(x^2-1) - (3x^2-2) \cdot 2x}{(x^2-1)^2} = \frac{6x^3 - 6x - 6x^3 + 4x}{(x^2-1)^2} = \frac{-2x}{(x^2-1)^2}$$

$$h) f'(x) = e^x + xe^x = e^x(1+x) \quad i) f'(x) = 40x^4 - 6x^2$$

$$j) f'(x) = (4x^3 - 3)e^x + (x^4 - 3x)e^x = (4x^3 - 3 + x^4 - 3x)e^x = (x^4 + 4x^3 - 3x - 3)e^x$$

$$k) f'(x) = \cos\left(\frac{x}{x^2-1}\right) \cdot \frac{x^2-1-x \cdot 2x}{(x^2-1)^2} = \cos\left(\frac{x}{x^2-1}\right) \cdot \frac{x^2-1-2x^2}{(x^2-1)^2} = \frac{-x^2-1}{(x^2-1)^2} \cdot \cos\left(\frac{x}{x^2-1}\right)$$

$$l) f'(x) = \frac{12x^3}{2} - \frac{18x^2}{5} = 6x^3 - \frac{18x^2}{5}$$

$$m) f'(x) = \frac{2x(2x^3+1) - (x^2-3) \cdot 6x^2}{(2x^3+1)^2} = \frac{4x^4 + 2x - 6x^4 + 18x^2}{(2x^3+1)^2} = \frac{-2x^4 + 18x^2 + 2x}{(2x^3+1)^2}$$

$$n) f'(x) = \frac{1}{x^4 - 2x} \cdot (4x^3 - 2) = \frac{4x^3 - 2}{x^4 - 2x}$$

$$\tilde{n}) f'(x) = \frac{-8x^3 + 6x}{5}$$

$$o) f'(x) = \frac{3(x^2+3x) - (3x-4)(2x+3)}{(x^2+3x)^2} = \frac{3x^2+9x-6x^2-9x+8x+12}{(x^2+3x)^2} = \frac{-3x^2+8x+12}{(x^2+3x)^2}$$

$$p) f'(x) = \frac{1}{2\sqrt{2x^3-3}} \cdot 6x^2 = \frac{6x^2}{2\sqrt{2x^3-3}} = \frac{3x^2}{\sqrt{2x^3-3}}$$

$$q) f'(x) = 2x^3 - \frac{21}{5}x^6$$

$$r) f'(x) = e^x \cdot \text{sen}x + e^x \cdot \text{cos}x = (\text{sen}x + \text{cos}x)e^x$$

$$s) f'(x) = -\text{sen}\left(\frac{3x}{x^2+2}\right) \cdot \frac{3(x^2+2) - 3x \cdot 2x}{(x^2+2)^2} = -\left(\frac{3x^2+6-6x^2}{(x^2+2)^2}\right) \cdot \text{sen}\left(\frac{3x}{x^2+2}\right) =$$

$$= -\frac{3x^2+6}{(x^2+2)^2} \cdot \text{sen}\left(\frac{3x}{x^2+2}\right) = \frac{3x^2-6}{(x^2+2)^2} \cdot \text{sen}\left(\frac{3x}{x^2+2}\right)$$

$$t) f'(x) = 20x^4 - \frac{2}{3}$$

$$u) f'(x) = (2x-3)e^x + (x^2-3x)e^x = e^x(2x-3+x^2-3x) = e^x(x^2-x-3)$$

$$v) f'(x) = \cos\left(\frac{x-1}{x^2+1}\right) \cdot \frac{x^2+1-(x-1)2x}{(x^2+1)^2} = \cos\left(\frac{x-1}{x^2+1}\right) \cdot \frac{x^2+1-2x^2+2x}{(x^2+1)^2} = \cos\left(\frac{x-1}{x^2+1}\right) \cdot \frac{-x^2+2x+1}{(x^2+1)^2} =$$

$$= \frac{-x^2+2x+1}{(x^2+1)^2} \cdot \cos\left(\frac{x-1}{x^2+1}\right)$$

$$w) f'(x) = -7x^6 + \frac{3}{4}$$

$$x) f'(x) = \frac{12x^2(x^2-1) - (4x^3-3) \cdot 2x}{(x^2-1)^2} = \frac{12x^4 - 12x^2 - 8x^4 + 6x}{(x^2-1)^2} = \frac{4x^4 - 12x^2 + 6x}{(x^2-1)^2}$$

$$y) f'(x) = e^{7x^4-3} \cdot (28x^3) = 28x^3 \cdot e^{7x^4-3}$$

$$z) f'(x) = 18x - 12x^3$$

$$1) f'(x) = \frac{9x^2(4-x^2) - 3x^3(-2x)}{(4-x^2)^2} = \frac{36x^2 - 9x^4 + 6x^4}{(4-x^2)^2} = \frac{36x^2 - 3x^4}{(4-x^2)^2}$$

$$2) f'(x) = \frac{1}{2x^5+3x} \cdot (10x^4+3) = \frac{10x^4+3}{2x^5+3x}$$

$$3) f'(x) = \frac{-15x^4+2}{7}$$

$$4) f'(x) = 4x^3 \cos x + x^4(-\sin x) = 4x^3 \cos x - x^4 \sin x$$

$$5) f'(x) = e^{\frac{x^2+1}{x-1}} \cdot \frac{2x(x-1) - (x^2+1)}{(x-1)^2} = e^{\frac{x^2+1}{x-1}} \cdot \frac{2x^2 - 2x - x^2 - 1}{(x-1)^2} = e^{\frac{x^2+1}{x-1}} \cdot \frac{x^2 - 2x - 1}{(x-1)^2}$$

$$6) f'(x) = \frac{24x^5}{3} - 2 = 8x^5 - 2$$

$$7) f'(x) = \frac{2(x^2+1) - 2x \cdot 2x}{(x^2+1)^2} = \frac{2x^2 + 2 - 4x^2}{(x^2+1)^2} = \frac{-2x^2 + 2}{(x^2+1)^2}$$

$$8) f'(x) = \frac{1}{2\sqrt{2x-3x^4}} \cdot (-12x^3) = \frac{-12x^3}{2\sqrt{2x-3x^4}} = \frac{-6x^3}{\sqrt{2x-3x^4}}$$

ECUACIÓN DE LA RECTA TANGENTE A UNA CURVA

EJERCICIO 11 : Halla la ecuación de la recta tangente a la curva $y=x^2+2x-1$ en el punto de abscisa $x=1$.

Solución: $y - f(1) = f'(1) \cdot (x - 1)$

- $f(1) = 1^2 + 2 \cdot 1 - 1 = 2$
- $f'(x) = 2x + 2 \Rightarrow f'(1) = 2 + 2 = 4$
- La recta será: $y - 2 = 4(x - 1) \Rightarrow y = 4x - 2$

EJERCICIO 12 : Escribe la ecuación de la recta tangente a la curva $y = 2x^2 - 3x$ que tenga pendiente -7 .

Solución: $m = -7 = f'(x) \Rightarrow f'(x) = 4x - 3 = -7 \Rightarrow x = -1$

- $y - f(-1) = f'(-1) \cdot (x + 1)$
- $f(-1) = 2 \cdot (-1)^2 - 3 \cdot (-1) = 2 + 3 = 5$
- $f'(-1) = -7$
- La recta será: $y - 5 = -7(x + 1) \Rightarrow y = -7x - 2$

EJERCICIO 13 : Halla la ecuación de la recta tangente a la curva $y = \sqrt{x}$ que sea paralela a la recta

$$y = \frac{1}{4}x + 1$$

Solución: • La pendiente de la recta es $m = \frac{1}{4}$

- La pendiente es igual a la derivada: $\Rightarrow \frac{1}{2\sqrt{x}} = \frac{1}{4} \Rightarrow x = 4$
- $y - f(4) = f'(4)(x - 4) \Rightarrow$ La recta será: $y - 2 = \frac{1}{4}(x - 4) \Rightarrow y = \frac{1}{4}x + 1$

ESTUDIO DE LA MONOTONÍA DE UNA FUNCIÓN

EJERCICIO 14 : Estudia el crecimiento y el decrecimiento de las siguientes funciones:

a) $f(x) = 3x^2 - 2x + 1$

b) $f(x) = 2x^3$

c) $f(x) = 3 + 12x - 3x^2$

d) $f(x) = (x + 2)^2$

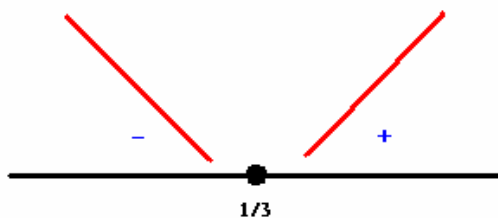
e) $f(x) = \frac{x^2 - 3x + 1}{2}$

Solución:

a)

- $D(f) = \mathbb{R}$

- $f'(x) = 6x - 2 \Rightarrow \begin{cases} D(f') = \mathbb{R} \\ f'(x) = 0 \Rightarrow 6x - 2 = 0 \Rightarrow x = 1/3 \end{cases}$



Creciente $(1/3, +\infty)$

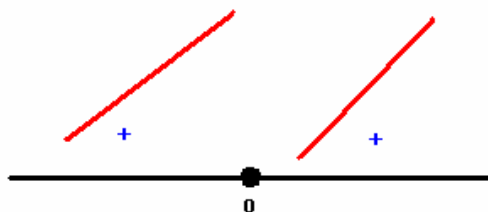
Decreciente $(-\infty, 1/3)$

Mínimo $(1/3, f(1/3)) = (1/3, 2/3)$

b)

- $D(f) = \mathbb{R}$

- $f'(x) = 6x^2 \Rightarrow \begin{cases} D(f') = \mathbb{R} \\ f'(x) = 0 \Rightarrow 6x^2 = 0 \Rightarrow x = 0 \end{cases}$

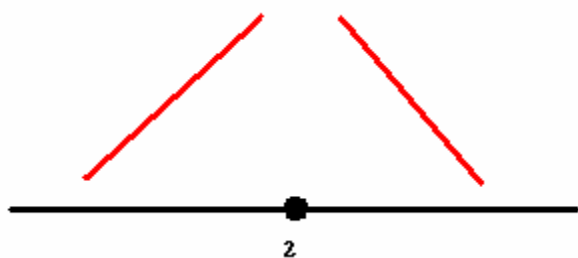


Creciente en todo \mathbb{R}

c)

- $D(f) = \mathbb{R}$

- $f'(x) = 12 - 6x \Rightarrow \begin{cases} D(f') = \mathbb{R} \\ f'(x) = 0 \Rightarrow 12 - 6x = 0 \Rightarrow x = 2 \end{cases}$



Creciente $(-\infty, 2)$

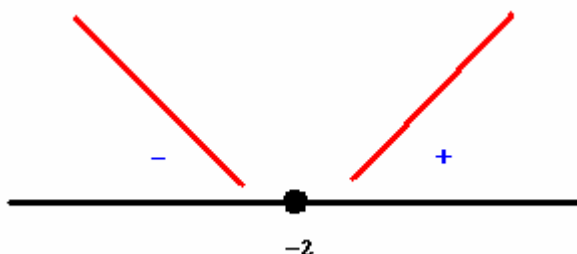
Decreciente $(2, +\infty)$

Máximo $(2, f(2)) = (2, 15)$

d)

- $D(f) = \mathbb{R}$

- $f'(x) = 2(x + 2) \Rightarrow \begin{cases} D(f') = \mathbb{R} \\ f'(x) = 0 \Rightarrow 2x + 4 = 0 \Rightarrow x = -2 \end{cases}$



Creciente $(-2, +\infty)$

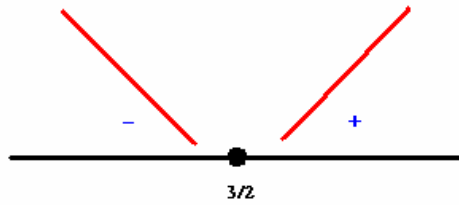
Decreciente $(-\infty, -2)$

Mínimo $(-2, f(-2)) = (-2, 0)$

e)

• $D(f) = \mathbb{R}$

• $f'(x) = \frac{2x-3}{2} \Rightarrow \begin{cases} D(f') = \mathbb{R} \\ f'(x) = 0 \Rightarrow 2x-3=0 \Rightarrow x = 3/2 \end{cases}$



Creciente $(3/2, +\infty)$

Decreciente $(-\infty, 3/2)$

Mínimo $(3/2, f(3/2)) = (3/2, -5/8)$

EJERCICIO 15 : Dada la función: $f(x) = 4x^2 - 2x + 1$

a) ¿Es creciente o decreciente en $x = 0$? ¿Y en $x = 1$?

b) Halla los tramos en los que la función crece y en los que decrece.

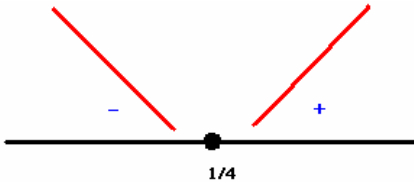
Solución: • $f'(x) = 8x - 2$

a) $f'(0) = -2 < 0 \Rightarrow$ Decreciente en $x = 0$

$f'(1) = 6 > 0 \Rightarrow$ Creciente en $x = 1$

b) • $D(f) = \mathbb{R}$

• $f'(x) = 8x - 2 \Rightarrow \begin{cases} D(f') = \mathbb{R} \\ f'(x) = 0 \Rightarrow 8x - 2 = 0 \Rightarrow x = 1/4 \end{cases}$



Creciente $(1/4, +\infty)$

Decreciente $(-\infty, 1/4)$

Mínimo $(1/4, f(1/4)) = (1/4, 3/4)$

EJERCICIO 16 : Consideramos la función: $f(x) = 5x^2 - 3x$

a) ¿Crece o decrece en $x = -1$? ¿Y en $x = 1$?

b) Halla los tramos en los que la función es creciente y en los que es decreciente.

Solución:

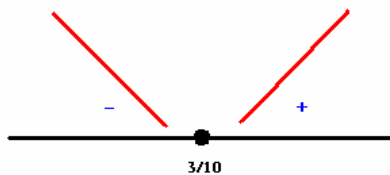
a) $f'(x) = 10x - 3$

$f'(-1) = -13 < 0 \Rightarrow$ Decreciente en $x = -1$

$f'(1) = 7 > 0 \Rightarrow$ Creciente en $x = 1$

b) • $D(f) = \mathbb{R}$

• $f'(x) = 10x - 3 \Rightarrow \begin{cases} D(f') = \mathbb{R} \\ f'(x) = 0 \Rightarrow 10x - 3 = 0 \Rightarrow x = 3/10 \end{cases}$



Creciente $(3/10, +\infty)$

Decreciente $(-\infty, 3/10)$

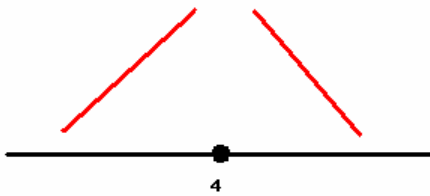
Mínimo $(3/10, f(3/10)) = (3/10, 9/20)$

EJERCICIO 17 : Halla los intervalos de crecimiento y de decrecimiento de la función: $f(x) = 8x - x^2$

Solución:

• $D(f) = \mathbb{R}$

• $f'(x) = 8 - 2x \Rightarrow \begin{cases} D(f') = \mathbb{R} \\ f'(x) = 0 \Rightarrow 8 - 2x = 0 \Rightarrow x = 4 \end{cases}$

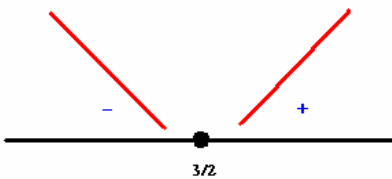


Creciente $(-\infty, 4)$
 Decreciente $(4, +\infty)$
 Máximo $(4, f(4)) = (4, 16)$

EJERCICIO 18 : Estudia el crecimiento y el decrecimiento de la siguiente función: $f(x) = \frac{x^2 - 3x}{4}$

Solución:

- $D(f) = \mathbb{R}$
- $f'(x) = \frac{2x-3}{4} \Rightarrow \begin{cases} D(f') = \mathbb{R} \\ f'(x) = 0 \Rightarrow \frac{2x-3}{4} = 0 \Rightarrow x = 3/2 \end{cases}$



Creciente $(3/2, +\infty)$
 Decreciente $(-\infty, 3/2)$
 Mínimo $(3/2, f(3/2)) = (3/2, -9/16)$

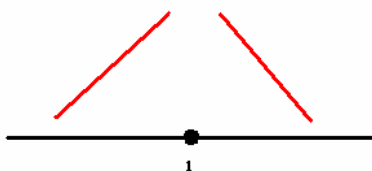
EJERCICIO 19 : Dada la siguiente función: $f(x) = 14x - 7x^2$

- a) ¿Es creciente o decreciente en $x = 0$? ¿Y en $x = 4$?
- b) Halla los tramos en los que la función es creciente y en los que es decreciente.

Solución:

- a) $f'(x) = 14 - 14x$
 $f'(0) = 14 > 0 \Rightarrow$ Creciente en $x = 0$
 $f'(4) = -42 < 0 \Rightarrow$ Decreciente en $x = 4$

- b)
- $D(f) = \mathbb{R}$
- $f'(x) = 14 - 14x \Rightarrow \begin{cases} D(f') = \mathbb{R} \\ f'(x) = 0 \Rightarrow 14 - 14x = 0 \Rightarrow x = 1 \end{cases}$



Creciente $(-\infty, 1)$
 Decreciente $(1, +\infty)$
 Máximo $(1, f(1)) = (1, 7)$

APLICACIONES DE LA DERIVADA

EJERCICIO 20

- a) Halla la ecuación de la recta tangente a la curva $f(x) = x^3 - 3x^2 + 1$ en el punto de la abscisa $x = 1$.
- b) ¿Es creciente o decreciente $f(x)$ en $x = 3$?

Solución:

- a) $y - f(1) = f'(1)(x - 1)$
 - $f(1) = 1 - 3 + 1 = -1$
 - $f'(x) = 3x^2 - 6x \Rightarrow f'(1) = 3 - 6 = -3$
 - La recta será: $y + 1 = -3(x - 1) \Rightarrow y = -3x + 2$
- b) $f'(3) = 9 > 0 \Rightarrow$ Es creciente en $x = 3$.

EJERCICIO 21 : Dada la función: $f(x) = 3x^2 - x$

- a) Escribe la ecuación de la recta tangente a la función en $x = 1$.

b) Halla los tramos en los que la función crece y en los que decrece.

Solución:

a) $y - f(1) = f'(1)(x - 1)$

- $f(1) = 3 - 1 = 2$

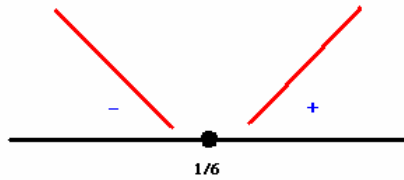
- $f'(x) = 6x - 1 \Rightarrow f'(1) = 6 - 1 = 5$

- La recta será: $y - 2 = 5(x - 1) \Rightarrow y = 5x - 3$

b)

- $D(f) = \mathbb{R}$

- $f'(x) = 6x - 1 \Rightarrow \begin{cases} D(f') = \mathbb{R} \\ f'(x) = 0 \Rightarrow 6x - 1 = 0 \Rightarrow x = 1/6 \end{cases}$



Creciente $(1/6, +\infty)$

Decreciente $(-\infty, 1/6)$

Mínimo $(1/6, f(1/6)) = (1/6, -1/12)$

EJERCICIO 22 : Consideremos la función: $f(x) = \frac{3}{2}x^2 - 2x + 1$

a) Obtén la ecuación de la recta tangente a $f(x)$ en el punto de abscisa $x = 2$.

b) Halla los tramos en los que la función crece y en los que decrece.

Solución:

a) $y - f(2) = f'(2)(x - 2)$

- $f(2) = 6 - 4 + 1 = 3$

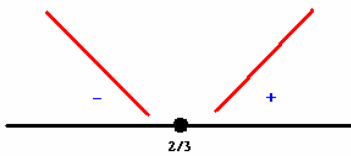
- $f'(x) = 3x - 2 \Rightarrow f'(2) = 6 - 2 = 4$

- La recta será: $y - 3 = 4(x - 2) \Rightarrow y = 4x - 5$

b)

- $D(f) = \mathbb{R}$

- $f'(x) = 3x - 2 \Rightarrow \begin{cases} D(f') = \mathbb{R} \\ f'(x) = 0 \Rightarrow 3x - 2 = 0 \Rightarrow x = 2/3 \end{cases}$



Creciente $(2/3, +\infty)$

Decreciente $(-\infty, 2/3)$

Mínimo $(2/3, f(2/3)) = (2/3, 1/3)$

PUNTOS DE TANGENTE HORIZONTAL

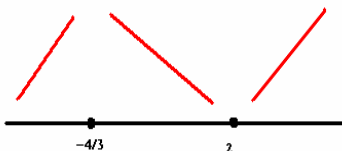
EJERCICIO 23 : Halla y representa gráficamente los puntos de tangente horizontal de la función:

$$f(x) = x^3 - x^2 - 8x + 12$$

Solución:

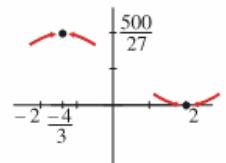
- $f'(x) = 3x^2 - 2x - 8 = 0 \Rightarrow x = \frac{2 \pm \sqrt{4 + 96}}{6} = \frac{2 \pm 10}{6} \rightarrow \begin{cases} x = 2 \\ x = \frac{-8}{6} = \frac{-4}{3} \end{cases}$

Puntos: $(2, 0)$ y $(-\frac{4}{3}, \frac{500}{27})$



Máximo en $(-\frac{4}{3}, \frac{500}{27})$

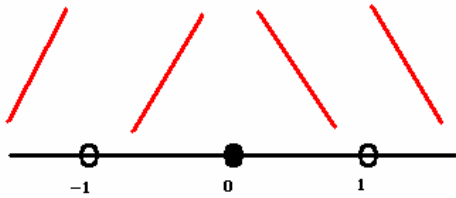
Mínimo en $(2, 0)$



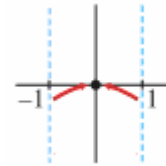
EJERCICIO 24 : Dada la función $f(x) = \frac{2x^2}{x^2 - 1}$, halla sus puntos singulares y represéntalos

Solución:

$$\bullet f'(x) = \frac{4x(x^2 - 1) - 2x^2 \cdot 2x}{(x^2 - 1)^2} = \frac{4x^3 - 4x - 4x^3}{(x^2 - 1)^2} = \frac{-4x}{(x^2 - 1)^2} = 0 \Rightarrow x = 0 \rightarrow \text{Punto: } (0, 0)$$



Máximo en (0,0)

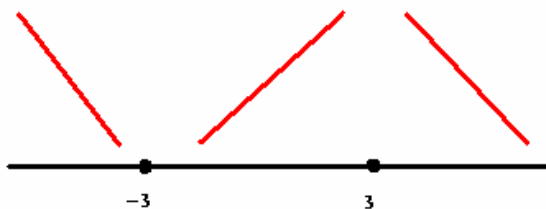


EJERCICIO 25: Averigua los puntos de tangente horizontal de la función $f(x) = \frac{9x}{x^2 + 9}$ y represéntalos

Solución:

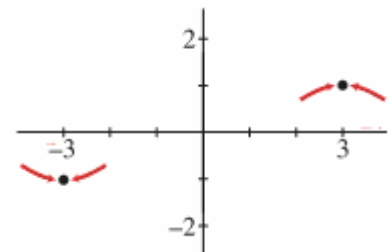
$$\bullet f'(x) = \frac{9(x^2 + 9) - 9x \cdot 2x}{(x^2 + 9)^2} = \frac{9x^2 + 81 - 18x^2}{(x^2 + 9)^2} = \frac{-9x^2 + 81}{(x^2 + 9)^2} = 0 \Rightarrow$$

$$\Rightarrow -9x^2 + 81 = 0 \Rightarrow x^2 = 9 \Rightarrow \begin{cases} x_1 = -3 \rightarrow \text{Punto: } \left(-3, \frac{-3}{2}\right) \\ x_2 = 3 \rightarrow \text{Punto: } \left(3, \frac{3}{2}\right) \end{cases}$$



Mínimo en $\left(-3, \frac{-3}{2}\right)$

Máximo en $\left(3, \frac{3}{2}\right)$.



EJERCICIO 26 : Halla y representa gráficamente los puntos de tangente horizontal de la siguiente función: $f(x) = (x - 1)^2(x + 5)$

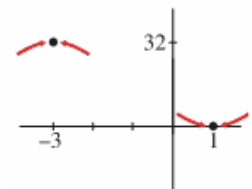
Solución:

$$\bullet f'(x) = 2(x - 1)(x + 5) + (x - 1)^2 = (x - 1)[2(x + 5) + (x - 1)] = (x - 1)(2x + 10 + x - 1) = (x - 1)(3x + 9) = 0 \Rightarrow$$

$$\Rightarrow \begin{cases} x = 1 \rightarrow \text{Punto: } (1, 0) \\ x = -3 \rightarrow \text{Punto: } (-3, 32) \end{cases}$$

Máximo en (-3, 32)

Mínimo en (1, 0).

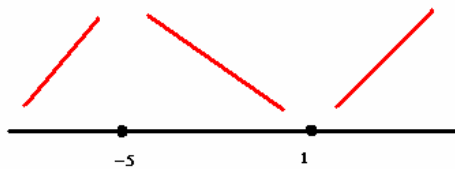


EJERCICIO 27 : Halla los puntos de tangente horizontal de la siguiente función y, con ayuda de las ramas infinitas, decide si son máximos o mínimos: $f(x) = x^3 + 6x^2 - 15x$

Solución:

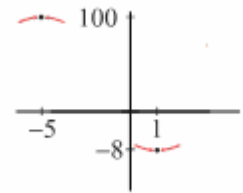
$$\bullet f'(x) = 3x^2 + 12x - 15 = 0 \Rightarrow x^2 + 4x - 5 = 0$$

$$x = \frac{-4 \pm \sqrt{16+20}}{2} = \frac{-4 \pm 6}{2}; x = \frac{-4 \pm \sqrt{16+20}}{2} = \frac{-4 \pm 6}{2} \begin{cases} x=1 \rightarrow \text{Punto } (1, -8) \\ x=-5 \rightarrow \text{Punto } (-5, 100) \end{cases}$$



Máximo en (-5,100)

Mínimo en (1, -8).



EJERCICIO 28 : Averigua los puntos de tangente horizontal de la función: $f(x) = \frac{3-x^2}{x+2}$

Solución:

$$f'(x) = \frac{-2x(x+2) - (3-x^2)}{(x+2)^2} = \frac{-2x^2 - 4x - 3 + x^2}{(x+2)^2} = \frac{-x^2 - 4x - 3}{(x+2)^2}$$

$$f'(x) = 0 \Rightarrow -x^2 - 4x - 3 = 0 \Rightarrow x^2 + 4x + 3 = 0 \Rightarrow$$

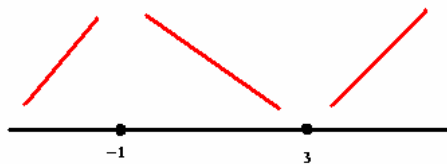
$$\Rightarrow x = \frac{-4 \pm \sqrt{16-12}}{2} = \frac{-4 \pm 2}{2} \begin{cases} x=-1 \rightarrow \text{Punto } (-1, 2) \\ x=-3 \rightarrow \text{Punto } (-3, 6) \end{cases}$$

EJERCICIO 29 : Halla y representa gráficamente los máximos y mínimos de la función:

$$y = x^3 - 3x^2 - 9x + 1$$

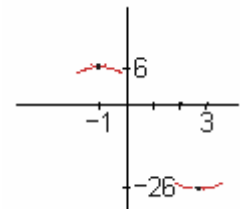
Solución: $D(f) = D(f') = \mathbb{R}$

$$y' = 3x^2 - 6x - 9 = 3(x^2 - 2x - 3) = 0 \Rightarrow x = \frac{2 \pm \sqrt{4+12}}{2} = \frac{2 \pm 4}{2} \begin{cases} x=3 \rightarrow \text{Punto } (3, -26) \\ x=-1 \rightarrow \text{Punto } (-1, 6) \end{cases}$$



Máximo en (-1,6)

Mínimo en (3, -26).



EJERCICIO 30 : Determina los puntos de tangente horizontal de la función:

$$f(x) = \frac{x^3}{x+2}$$

Solución:

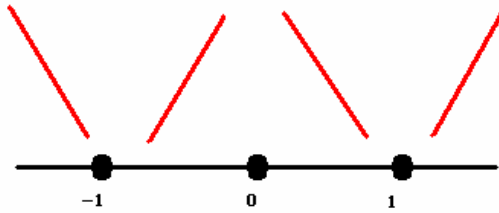
$$f'(x) = \frac{3x^2(x+2) - x^3}{(x+2)^2} = \frac{3x^3 + 6x^2 - x^3}{(x+2)^2} = \frac{2x^3 + 6x^2}{(x+2)^2}$$

$$f'(x) = 0 \Rightarrow 2x^3 + 6x^2 = 0 \Rightarrow x^2(2x+6) = 0 \begin{cases} x=0 \rightarrow \text{Punto } (0, 0) \\ x=-3 \rightarrow \text{Punto } (-3, 27) \end{cases}$$

EJERCICIO 31 : Halla y representa gráficamente los puntos singulares de la función: $f(x) = x^4 - 2x^2$

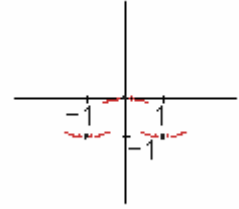
Solución:

$$f'(x) = 4x^3 - 4x = 4x(x^2 - 1) = 0 \begin{cases} x=-1 \rightarrow \text{Punto } (-1, -1) \\ x=0 \rightarrow \text{Punto } (0, 0) \\ x=1 \rightarrow \text{Punto } (1, -1) \end{cases}$$



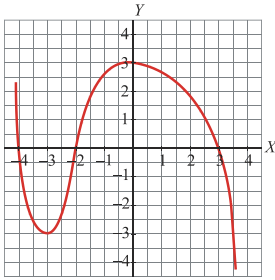
Máximo en (0,0)

Mínimo en (-1,-1) y (1,-1)



REPRESENTACIÓN DE FUNCIONES

EJERCICIO 32 : La siguiente gráfica corresponde a la función $f(x)$. A partir de ella, indica:

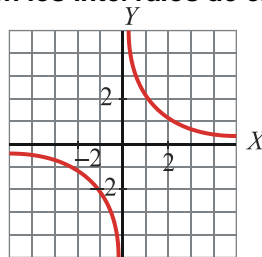


- a) Máximos y mínimos.
- b) Puntos de corte con los ejes.
- c) Ramas infinitas.
- d) Intervalos de crecimiento y de decrecimiento.

Solución:

- a) $f'(-3) = 0$
 $f(-3) = -3$ } Hay un mínimo en $(-3, -3)$
 $f'(0) = 0$
 $f(0) = 3$ } Hay un máximo en $(0, 3)$
- b) $(-4, 0)$, $(-2, 0)$, $(3, 0)$ y $(0, 3)$.
- c) $\lim_{x \rightarrow +\infty} f(x) = -\infty$; $\lim_{x \rightarrow -\infty} f(x) = +\infty$
- d) Decrece en $(-\infty, -3)$ y en $(0, +\infty)$; crece en $(-3, 0)$.

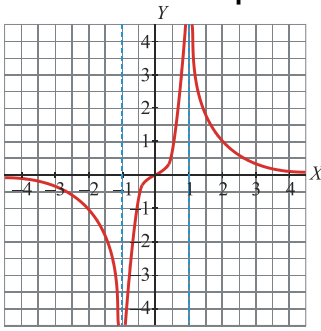
EJERCICIO 33 : Dada la gráfica de $f(x)$, di cuáles son sus asíntotas e indica la posición de la curva respecto a ellas. Halla también los intervalos de crecimiento y de decrecimiento de la función:



Solución:

- Asíntota vertical: $x = 0 \Rightarrow$ Posición de la curva: $\lim_{x \rightarrow 0^-} f(x) = -\infty$; $\lim_{x \rightarrow 0^+} f(x) = +\infty$
- Asíntota horizontal: $y = 0 \Rightarrow$ Posición de la curva: $\left\{ \begin{array}{l} \text{Si } x \rightarrow -\infty, \quad y < 0 \\ \text{Si } x \rightarrow +\infty, \quad y > 0 \end{array} \right.$
- La función es decreciente en $(-\infty, 0)$ y en $(0, +\infty)$.

EJERCICIO 34 : A partir de la gráfica de $f(x)$:



- a) ¿Cuáles son los puntos de corte con los ejes?
- b) Di cuáles son sus asíntotas.
- c) Indica la posición de la curva respecto a las asíntotas verticales.

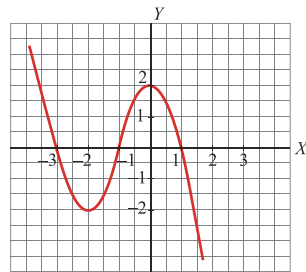
Solución:

- a) $(0, 0)$
- b) Asíntotas verticales: $x = -1$, $x = 1$
Asíntota horizontal: $y = 0$
- c) $\lim_{x \rightarrow -1^-} f(x) = -\infty$; $\lim_{x \rightarrow -1^+} f(x) = +\infty$ $\lim_{x \rightarrow 1^-} f(x) = +\infty$; $\lim_{x \rightarrow 1^+} f(x) = +\infty$

EJERCICIO 35 : Representa una función polinómica $f(x)$, de la que sabemos que :

- $\lim_{x \rightarrow +\infty} f(x) = -\infty$; $\lim_{x \rightarrow -\infty} f(x) = +\infty$
- Su derivada es 0 en $(-2, -2)$ y en $(0, 2)$.
- Corta a los ejes en $(-3, 0)$, $(-1, 0)$, $(1, 0)$ y $(0, 2)$.

Solución:

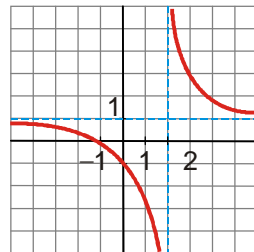


EJERCICIO 36 : Representa una función $f(x)$, de la que sabemos lo siguiente:

- La derivada no se anula en ningún punto.
- La función es decreciente.
- Corta a los ejes en $(-1, 0)$ y en $(0,-1)$
- $\lim_{x \rightarrow 2^-} f(x) = -\infty$; $\lim_{x \rightarrow 2^+} f(x) = +\infty$
- Tiene una asíntota horizontal en $y = 1$. Además:

$$\begin{cases} \text{Si } x \rightarrow -\infty, y < 1 \\ \text{Si } x \rightarrow -\infty, y > 1 \end{cases}$$

Solución:



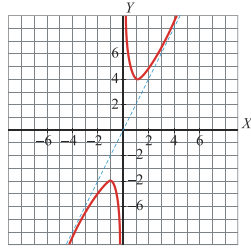
EJERCICIO 37 : Representa gráficamente una función $f(x)$, de la que conocemos lo siguiente :

- Su derivada se anula en $(-1, -4)$ y en $(1, 4)$.
- No corta a los ejes.
- $\lim_{x \rightarrow 0^-} f(x) = -\infty$; $\lim_{x \rightarrow 0^+} f(x) = +\infty$

- Tiene una asíntota oblicua, que es $y = 2x$. Además:

$$\begin{cases} \text{Si } x \rightarrow -\infty, & \text{la curva está por debajo de la asíntota.} \\ \text{Si } x \rightarrow +\infty, & \text{la curva está por encima de la asíntota.} \end{cases}$$

Solución:



EJERCICIO 38 : Estudia y representa la siguiente función: $f(x) = x^3 + 3x^2$

Solución:

- Dominio: $D(f) = \mathbb{R}$
- Puntos de corte con los ejes:

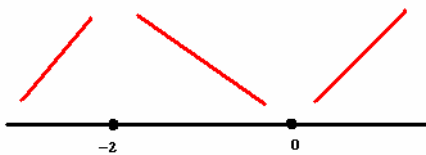
$$\text{Con el eje } X \rightarrow x^3 + 3x^2 = 0 \Rightarrow x^2(x+3) = 0 \begin{cases} x = 0 \rightarrow \text{Punto } (0,0) \\ x = -2 \rightarrow \text{Punto } (-2, 4) \end{cases}$$

$$\text{Con el eje } Y: x = 0 \Rightarrow y = 0 \rightarrow \text{Punto } (0, 0)$$

- Ramas infinitas: $\lim_{x \rightarrow +\infty} (x^3 + 3x^2) = +\infty$; $\lim_{x \rightarrow -\infty} (x^3 + 3x^2) = -\infty$

- Monotonía y extremos:
 $D(f) = \mathbb{R}$

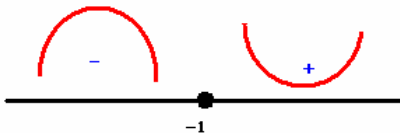
$$f'(x) = 3x^2 + 6x \Rightarrow \begin{cases} D(f') = \mathbb{R} \\ f'(x) = 0 \Rightarrow 3x(x+2) = 0 \Rightarrow \begin{cases} x = 0 \rightarrow \text{Punto } (0,0) \\ x = -2 \rightarrow \text{Punto } (-2, 4) \end{cases} \end{cases}$$



Creciente: $(-\infty, -2) \cup (0, \infty)$
 Decreciente: $(-2, 0)$
 Máximo: $(-2, 4)$
 Mínimo: $(0, 0)$

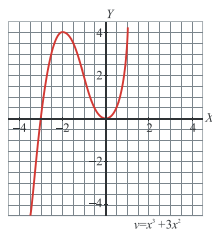
- Curvatura y puntos de inflexión:
 $D(f) = D(f') = \mathbb{R}$

$$f''(x) = 6x + 6 \Rightarrow \begin{cases} D(f') = \mathbb{R} \\ f''(x) = 0 \Rightarrow 6x + 6 = 0 \Rightarrow x = -1 \end{cases}$$



Cóncava: $(-\infty, -1)$
 Convexa: $(-1, \infty)$
 Punto de Inflexión: $(-1, 2)$

- Gráfica:



EJERCICIO 39 : Estudia y representa la función: $f(x) = x^4 - 2x^2$

Solución:

- Dominio: $D(f) = \mathbb{R}$
- Puntos de corte con los ejes:

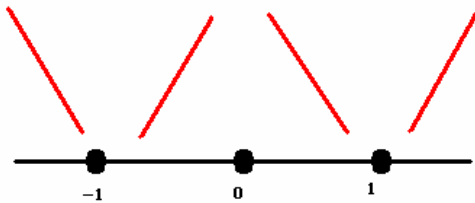
$$\text{Con el eje } X \rightarrow x^4 - 2x^2 = 0 \Rightarrow x^2(x^2 - 2) = 0 \begin{cases} x = -\sqrt{2} \rightarrow \text{Punto } (-\sqrt{2}, 0) \\ x = 0 \rightarrow \text{Punto } (0, 0) \\ x = \sqrt{2} \rightarrow \text{Punto } (\sqrt{2}, 0) \end{cases}$$

Con el eje $Y \rightarrow x = 0 \rightarrow y = 0 \rightarrow \text{Punto } (0,0)$

- Ramas infinitas: $\lim_{x \rightarrow +\infty} (x^4 - 2x^2) = +\infty$; $\lim_{x \rightarrow -\infty} (x^4 - 2x^2) = +\infty$

- Monotonía y extremos:
 $D(f) = \mathbb{R}$

$$f'(x) = 4x^3 - 4x \Rightarrow \begin{cases} D(f') = \mathbb{R} \\ f'(x) = 0 \Rightarrow 4x(x^2 - 1) = 0 \Rightarrow \begin{cases} x = 0 \\ x = -1 \\ x = 1 \end{cases} \end{cases}$$



Creciente: $(-1,0) \cup (1,+\infty)$
 Decreciente: $(-\infty,-1) \cup (0,1)$
 Máximo: $(0,0)$
 Mínimo: $(-1,-1), (1,-1)$

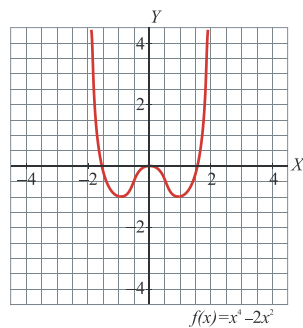
- Curvatura y puntos de inflexión:
 $D(f) = D(f') = \mathbb{R}$

$$f''(x) = 12x^2 - 4 \Rightarrow \begin{cases} D(f'') = \mathbb{R} \\ f''(x) = 0 \Rightarrow 12x^2 - 4 = 0 \Rightarrow x = \pm\sqrt{1/3} \end{cases}$$



Cóncava: $\left(-\sqrt{\frac{1}{3}}, +\sqrt{\frac{1}{3}}\right)$
 Convexa: $\left(-\infty, -\sqrt{\frac{1}{3}}\right) \cup \left(+\sqrt{\frac{1}{3}}, +\infty\right)$
 Punto de Inflexión: $\left(\pm\sqrt{\frac{1}{3}}, -\frac{5}{9}\right)$

- Gráfica:



EJERCICIO 40 : Estudia y representa la siguiente función: $f(x) = \frac{3x}{x-2}$

Solución:

- Dominio = $\mathbb{R} - \{2\}$

- Puntos de corte con los ejes:

Con el eje $X \rightarrow y = 0 \rightarrow \frac{3x}{x-2} = 0 \rightarrow x = 0 \rightarrow$ Punto $(0, 0)$

Con el eje $Y \rightarrow x = 0 \rightarrow y = 0 \rightarrow$ Punto $(0, 0)$

- Asíntota vertical: $x = 2$ $\lim_{x \rightarrow 2^-} f(x) = -\infty$; $\lim_{x \rightarrow 2^+} f(x) = +\infty$

$$\lim_{x \rightarrow +\infty} \frac{3x}{x-2} = 3, \text{ con } y > 3$$

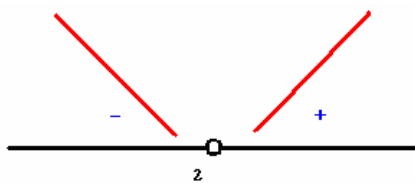
Asíntota horizontal: $y = 3$

$$\lim_{x \rightarrow -\infty} \frac{3x}{x-2} = 3, \text{ con } y < 3$$

- Monotonía y extremos:

$D(f) = \mathbb{R} - \{2\}$

$$f'(x) = \frac{3(x-2) - 3x}{(x-2)^2} = \frac{3x - 6 - 3x}{(x-2)^2} = \frac{-6}{(x-2)^2} \Rightarrow \begin{cases} D(f') = \mathbb{R} - \{2\} \\ f'(x) = \frac{-6}{(x-2)^2} = 0 \Rightarrow -6 = 0 \Rightarrow \text{No tiene solución} \end{cases}$$



Creciente: $(0, \infty)$

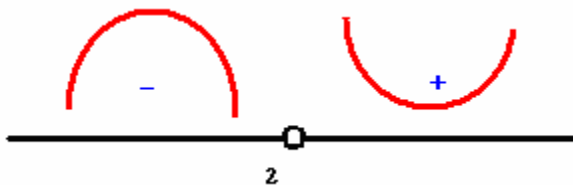
Decreciente: $(-\infty, 0)$

No existe ni máximo ni mínimo

- Curvatura y puntos de inflexión:

$D(f) = D(f') = \mathbb{R} - \{2\}$

$$f''(x) = \frac{0 \cdot (x-2)^2 - (-6) \cdot 2(x-2)}{(x-2)^4} = \frac{12}{(x-2)^3} \Rightarrow \begin{cases} D(f'') = \mathbb{R} - \{2\} \\ f''(x) = 0 \Rightarrow \frac{12}{(x-2)^3} = 0 \Rightarrow \text{No tiene solución} \end{cases}$$

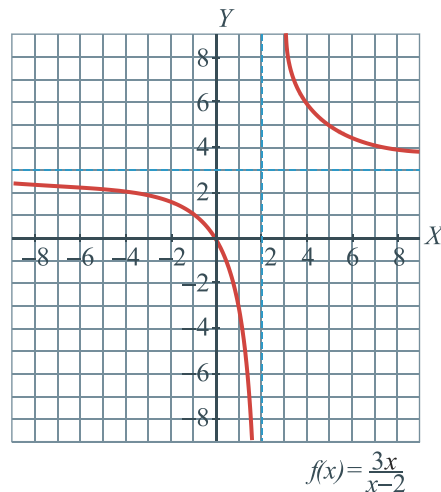


Cóncava: $(-\infty, 0)$

Convexa: $(0, +\infty)$

Punto de Inflexión: No existe

- Gráfica:



EJERCICIO 41 : Representa gráficamente la siguiente función, estudiando previamente los aspectos

que consideres más relevantes: $f(x) = \frac{x^2}{x+1}$

Solución:

- Dominio = $\mathbb{R} - \{-1\}$

- Puntos de corte con los ejes:

Con el eje $X \rightarrow y = 0 \rightarrow \frac{x^2}{x+1} = 0 \rightarrow x = 0 \rightarrow$ Punto $(0, 0)$

Con el eje $Y \rightarrow x = 0 \rightarrow y = 0 \rightarrow$ Punto $(0, 0)$

- Asíntotas verticales: $x = -1$ $\lim_{x \rightarrow -1^-} f(x) = -\infty$; $\lim_{x \rightarrow -1^+} f(x) = +\infty$

Asíntota horizontal: $\lim_{x \rightarrow \infty} f(x) = \lim_{x \rightarrow \infty} \frac{x^2}{x+1} = \pm\infty \Rightarrow$ No existe asíntota horizontal

Asíntota oblicua: $y = mx + n$

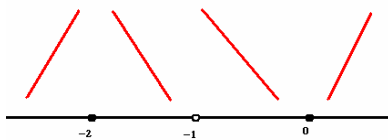
$$\left\{ \begin{aligned} m &= \lim_{x \rightarrow \infty} \frac{f(x)}{x} = \lim_{x \rightarrow \infty} \frac{\frac{x^2}{x+1}}{x} = \lim_{x \rightarrow \infty} \frac{x^2}{x^2+x} = 1 \\ n &= \lim_{x \rightarrow \infty} [f(x) - mx] = \lim_{x \rightarrow \infty} \left[\frac{x^2}{x+1} - 1 \cdot x \right] = \lim_{x \rightarrow \infty} \frac{x^2 - x^2 - x}{x+1} = \lim_{x \rightarrow \infty} \frac{-x}{x+1} = \frac{-1}{1} = -1 \end{aligned} \right.$$

$\Rightarrow y = x - 1 \Rightarrow \begin{cases} f(100) > A \sin t(100) \\ f(-100) < A \sin t(-100) \end{cases}$

- Monotonía y extremos:

$D(f) = \mathbb{R} - \{-1\}$

$$f'(x) = \frac{2x(x+1) - x^2 \cdot 1}{(x+1)^2} = \frac{2x^2 + 2x - x^2}{(x+1)^2} = \frac{x^2 + 2x}{(x+1)^2} \Rightarrow \begin{cases} D(f') = \mathbb{R} - \{-1\} \\ f'(x) = \frac{x^2 + 2x}{(x+1)^2} = 0 \Rightarrow x^2 + 2x = 0 \Rightarrow x(x+2) = 0 \Rightarrow \begin{cases} x = 0 \\ x + 2 = 0 \Rightarrow x = -2 \end{cases} \end{cases}$$



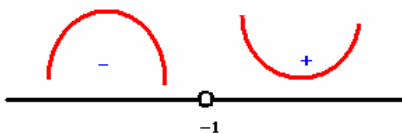
Creciente: $(-\infty, -2) \cup (0, +\infty)$
 Decreciente: $(-2, -1) \cup (-1, 0)$
 Máximo $(-2, -4)$ y Mínimo $(0, 0)$

- Curvatura y puntos de inflexión:

$D(f) = D(f') = \mathbb{R} - \{-1\}$

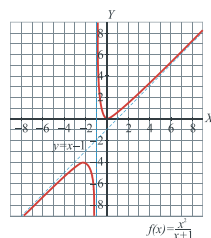
$$f''(x) = \frac{(2x+2) \cdot (x+1)^2 - (x^2+2x) \cdot 2(x+1)}{(x+1)^4} = \frac{(2x+2) \cdot (x+1) - (x^2+2x) \cdot 2}{(x+1)^3} = \frac{2x^2+2x+2x+2-2x^2-4x}{(x+1)^3} = \frac{2}{(x+1)^3}$$

$\Rightarrow \begin{cases} D(f'') = \mathbb{R} - \{-1\} \\ f''(x) = 0 \Rightarrow \frac{2}{(x+1)^3} = 0 \Rightarrow \text{No tiene solución} \end{cases}$



Cóncava: $(-\infty, -1)$
 Convexa: $(-1, +\infty)$
 Punto de Inflexión: No existe

- Gráfica:



EJERCICIO 42 : Estudia y representa la siguiente función: $f(x) = \frac{x^3}{x-2}$

Solución:

- Dominio = $\mathbb{R} - \{2\}$

- Puntos de corte con los ejes:

Con el eje X $\rightarrow y = 0 \rightarrow \frac{x^3}{x-2} = 0 \rightarrow x = 0 \rightarrow$ Punto $(0, 0)$

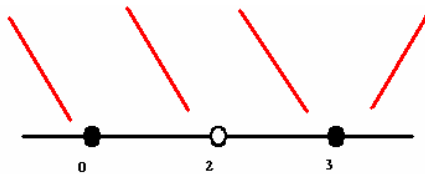
Con el eje Y $\rightarrow x = 0 \rightarrow y = 0 \rightarrow$ Punto $(0, 0)$

- Asíntota vertical: $x = 2$ $\lim_{x \rightarrow 2^-} f(x) = -\infty$; $\lim_{x \rightarrow 2^+} f(x) = +\infty$

Rama parabólica (pues el grado del numerador es dos unidades mayor que el grado del denominador). $\lim_{x \rightarrow +\infty} f(x) = +\infty$; $\lim_{x \rightarrow -\infty} f(x) = +\infty$

- Monotonía y extremos:
 $D(f) = \mathbb{R} - \{2\}$

$$f'(x) = \frac{3x^2(x-2) - x^3}{(x-2)^2} = \frac{3x^3 - 6x^2 - x^3}{(x-2)^2} = \frac{2x^3 - 6x^2}{(x-2)^2} = \frac{2x^2(x-3)}{(x-2)^2} \Rightarrow \begin{cases} D(f') = \mathbb{R} - \{2\} \\ f'(x) = 0 \Rightarrow 2x^2(x-3) = 0 \Rightarrow \begin{cases} x = 0 \\ x = 3 \end{cases} \end{cases}$$



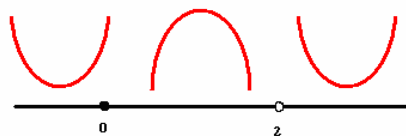
Creciente: $(3, +\infty)$
 Decreciente: $(-\infty, 0) \cup (0, 2) \cup (3, +\infty)$
 Mínimo: $(3, 27)$

- Curvatura y puntos de inflexión:
 $D(f) = D(f') = \mathbb{R} - \{2\}$

$$f''(x) = \frac{(6x^2 - 12x)(x-2)^2 - (2x^3 - 6x^2)2(x-2)}{(x-2)^4} = \frac{(6x^2 - 12x)(x-2) - (2x^3 - 6x^2)2}{(x-2)^3} =$$

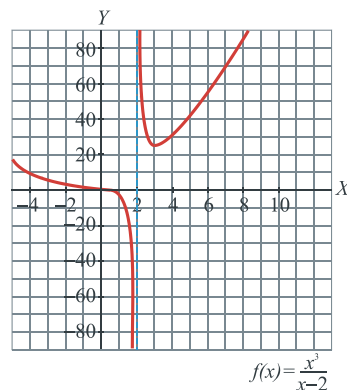
$$\frac{6x^3 - 12x^2 - 12x^2 + 24x - 4x - 2x^3 + 12x^2}{(x-2)^3} = \frac{4x^3 - 12x^2 + 20x}{(x-2)^3} \Rightarrow$$

$$\begin{cases} D(f'') = \mathbb{R} - \{2\} \\ f''(x) = 0 \Rightarrow \frac{4x^3 - 12x^2 + 20x}{(x-2)^3} = 0 \Rightarrow 4x^3 - 12x^2 + 20x = 0 \Rightarrow 4x(x^2 - 3x + 5) = 0 \Rightarrow \begin{cases} x = 0 \\ x^2 - 3x + 5 = 0 \Rightarrow \text{Notiene solución} \end{cases} \end{cases}$$



Cóncava: $(0, 2)$
 Convexa: $(-\infty, 0) \cup (2, +\infty)$
 Punto de Inflexión: $(0, 0)$

- Gráfica:

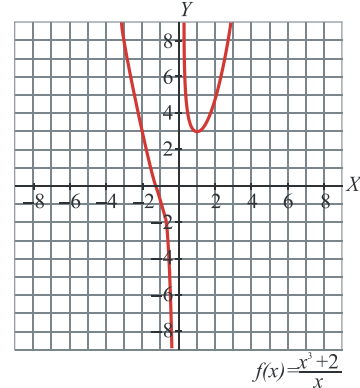


EJERCICIO 43 : Representa gráficamente la siguiente función, estudiando los aspectos que consideres más relevantes: $f(x) = \frac{x^3 + 2}{x}$

Solución:

- Dominio = $\mathbb{R} - \{0\}$
- Puntos de corte con los ejes: $(-1,26;0)$
- Asíntota vertical: $x = 0$: $\lim_{x \rightarrow 0^-} f(x) = -\infty$; $\lim_{x \rightarrow 0^+} f(x) = +\infty$
- Rama parabólica: $\lim_{x \rightarrow +\infty} f(x) = +\infty$; $\lim_{x \rightarrow -\infty} f(x) = +\infty$
- Monotonía y extremos:
 - Creciente $(1, +\infty)$
 - Decreciente $(-\infty, 0) \cup (0, 1)$
 - Mínimo $(1, 3)$
- Curvatura y puntos de inflexión
 - Cóncava: $(-1, 26; 0)$
 - Convexa: $(-\infty; -1, 26) \cup (0, +\infty)$
 - Punto de inflexión: $(-1, 26; 0)$

• Gráfica:

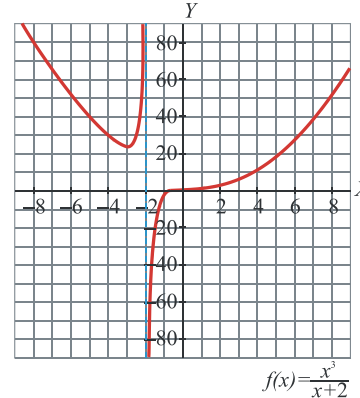


EJERCICIO 44 : Estudia y representa la función: $f(x) = \frac{x^3}{x+2}$

Solución:

- Dominio = $\mathbb{R} - \{-2\}$
- Puntos de corte con los ejes: $(0,0)$
- Asíntota vertical: $x = -2$: $\lim_{x \rightarrow -2^-} f(x) = +\infty$; $\lim_{x \rightarrow -2^+} f(x) = -\infty$
- Rama parabólica: $\lim_{x \rightarrow +\infty} f(x) = +\infty$; $\lim_{x \rightarrow -\infty} f(x) = +\infty$
- Monotonía y extremos:
 - Creciente $(-3, -2) \cup (-2, +\infty)$
 - Decreciente $(-\infty, -3)$
 - Mínimo $(-3, 27)$
- Curvatura y puntos de inflexión: a un número entre -2 y 0
 - Cóncava: $(-2, a)$
 - Convexa: $(-\infty; -2) \cup (a, +\infty)$
 - Punto de inflexión: $(a, f(a))$

• Gráfica:

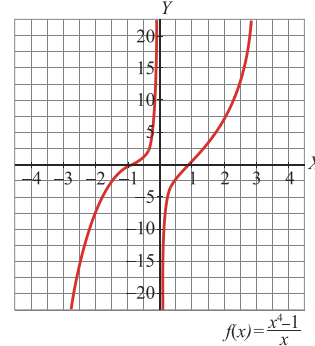


EJERCICIO 45 : Estudia y representa la siguiente función: $f(x) = \frac{x^4 - 1}{x}$

Solución:

- Dominio = $\mathbb{R} - \{0\}$
- Puntos de corte con los ejes: $(1,0)$ y $(-1,0)$
- Asíntota vertical: $x = 0$: $\lim_{x \rightarrow 0^-} f(x) = +\infty$; $\lim_{x \rightarrow 0^+} f(x) = -\infty$
- Rama infinitas: $\lim_{x \rightarrow +\infty} f(x) = +\infty$; $\lim_{x \rightarrow -\infty} f(x) = -\infty$
- Monotonía y extremos:
 - Creciente $\mathbb{R} - \{0\}$
- Curvatura y puntos de inflexión:
 - Cóncava: $(-\infty; -0,58) \cup (0; 0,58)$
 - Convexa: $(-0,58; 0) \cup (0, +\infty)$
 - Punto de inflexión: $(-0,58; 1,54)$ y $(0,58; -1,54)$

• Gráfica:

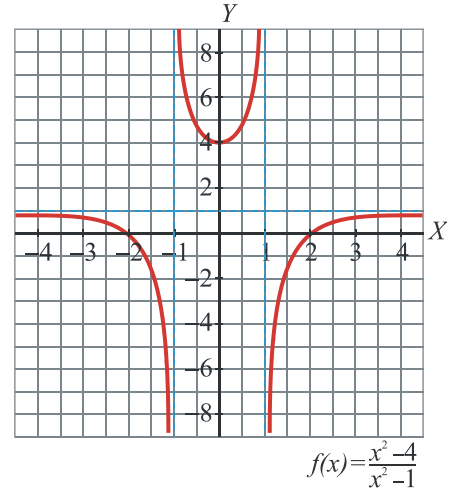


EJERCICIO 46 : Estudia y representa la siguiente función: $f(x) = \frac{x^2 - 4}{x^2 - 1}$

Solución:

- Dominio = $\mathbb{R} - \{-1, 1\}$
- Puntos de corte con los ejes: (0,0)
- Asíntotas verticales: $x = -1, x = 1$
 $x = -1 \Rightarrow \lim_{x \rightarrow -1^-} f(x) = -\infty; \quad \lim_{x \rightarrow -1^+} f(x) = +\infty$
 $x = 1 \Rightarrow \lim_{x \rightarrow 1^-} f(x) = +\infty; \quad \lim_{x \rightarrow 1^+} f(x) = -\infty$
- Asíntota horizontal: $y = 1 \Rightarrow \begin{cases} f(100) < 1 \\ f(-100) < 1 \end{cases}$
- Monotonía y extremos:
 Creciente $(0, 1) \cup (1, +\infty)$
 Decreciente $(-\infty, -1) \cup (-1, 0)$
 Máximo: (0,4)
- Curvatura y puntos de inflexión:
 Cóncava: $(-\infty, -1) \cup (1, +\infty)$
 Convexa: $(-1, 1)$
 Punto de inflexión: No existen

• Gráfica:

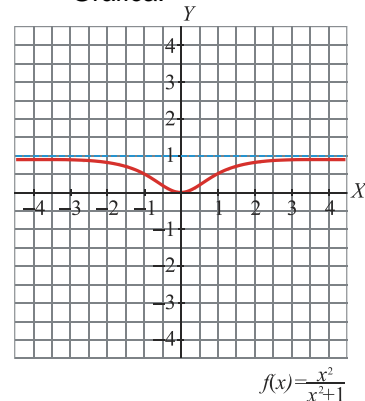


EJERCICIO 47 : Representa gráficamente la siguiente función, estudiando previamente los aspectos que consideres más relevantes: $f(x) = \frac{x^2}{x^2 + 1}$

Solución:

- Dominio = \mathbb{R}
- Puntos de corte con los ejes: (0,0)
- No tiene asíntotas verticales.
 Asíntota horizontal: $y = 1 \Rightarrow \begin{cases} f(100) < 1 \\ f(-100) < 1 \end{cases}$
- Monotonía y extremos:
 Creciente $(0, +\infty)$
 Decreciente $(-\infty, 0)$
 Mínimo: (0,0)
- Curvatura y puntos de inflexión:
 Cóncava: $(-\infty; -0,58) \cup (0,58; +\infty)$
 Convexa: $(-0,58; 0,58)$
 Punto de inflexión: $(-0,58; 0,25)$ y $(0,58; 0,25)$

• Gráfica:

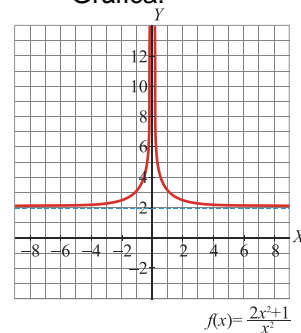


EJERCICIO 48 : Dada la función $f(x) = \frac{2x^2 + 1}{x^2}$ estudia sus aspectos más relevantes y represéntala gráficamente.

Solución:

- Dominio = $\mathbb{R} - \{0\}$
- Puntos de corte con los ejes: No existen
- Asíntota vertical: $x = 0$
 $\lim_{x \rightarrow 0^-} f(x) = +\infty; \quad \lim_{x \rightarrow 0^+} f(x) = +\infty$
 Asíntota horizontal: $y = 2 \Rightarrow \begin{cases} f(100) > 2 \\ f(-100) > 2 \end{cases}$
- Monotonía y extremos:
 Creciente $(-\infty, 0)$
 Decreciente $(0, +\infty)$
 Máximo y Mínimo: No existen
- Curvatura y puntos de inflexión:
 Cóncava: $\mathbb{R} - \{0\}$
 Punto de inflexión: No existe

• Gráfica:

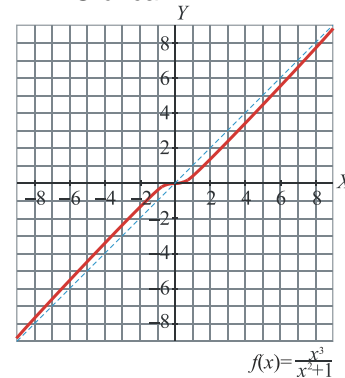


EJERCICIO 49 : Estudia y representa la siguiente función: $f(x) = \frac{x^3}{x^2 + 1}$

Solución:

- Dominio = \mathbb{R}
- Puntos de corte con los ejes: (0,0)
- Asíntota vertical: *No tiene*
- Asíntota oblicua: $y = x \Rightarrow \begin{cases} f(100) < A \sin t(100) \\ f(-100) > A \sin t(-100) \end{cases}$
- Monotonía y extremos:
 - Creciente \mathbb{R}
 - Máximo y Mínimo: No existen
- Curvatura y puntos de inflexión:
 - Cóncava: $(-\infty, 0)$
 - Convexa: $(0, +\infty)$
 - Punto de inflexión: (0,0)

• Gráfica:

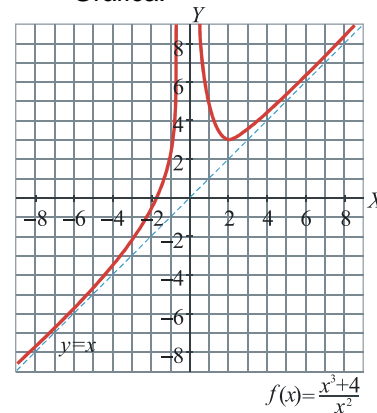


EJERCICIO 50 : Dada la función $f(x) = \frac{x^3 + 4}{x^2}$ estudia sus aspectos más relevantes y representala gráficamente.

Solución:

- Dominio = $\mathbb{R} - \{0\}$
- Puntos de corte con los ejes: (-1,6;0)
- Asíntota vertical: $x = 0$
- $\lim_{x \rightarrow 0^-} f(x) = +\infty$; $\lim_{x \rightarrow 0^+} f(x) = +\infty$
- Asíntota oblicua: $y = x \Rightarrow \begin{cases} f(100) > A \sin t(100) \\ f(-100) > A \sin t(-100) \end{cases}$
- Monotonía y extremos:
 - Creciente $(-\infty, 0) \cup (2, +\infty)$
 - Decreciente: (0,2)
 - Mínimo: (2,3)
- Curvatura y puntos de inflexión:
 - Convexa: $\mathbb{R} - \{0\}$
 - Punto de inflexión: No tiene

• Gráfica:

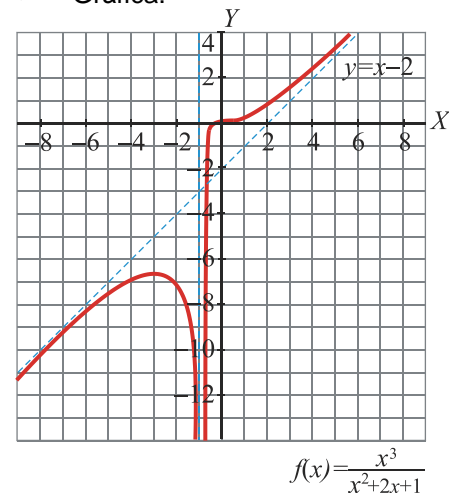


EJERCICIO 51 : Estudia y representa la función: $f(x) = \frac{x^3}{x^2 + 2x + 1}$

Solución:

- Dominio = $\mathbb{R} - \{-1\}$
- Puntos de corte con los ejes: (0;0)
- Asíntota vertical: $x = -1$
- $\lim_{x \rightarrow -1^-} f(x) = -\infty$; $\lim_{x \rightarrow -1^+} f(x) = -\infty$
- Asíntota oblicua: $y = x-2 \Rightarrow \begin{cases} f(100) > A \sin t(100) \\ f(-100) < A \sin t(-100) \end{cases}$
- Monotonía y extremos:
 - Creciente $(-\infty, -3) \cup (-1, +\infty)$
 - Decreciente: (-3,-1)
 - Máximo: (-3,-27/4)
- Curvatura y puntos de inflexión:
 - Cóncava: $(-\infty, -1) \cup (-1, 0)$
 - Convexa: (0,+∞)
 - Punto de inflexión: (0,0)

• Gráfica:

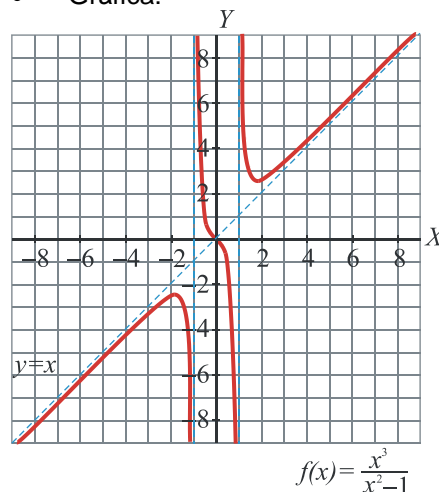


EJERCICIO 52 : Estudia y representa la siguiente función: $f(x) = \frac{x^3}{x^2 - 1}$

Solución:

- Dominio = $\mathbb{R} - \{-1, 1\}$
- Puntos de corte con los ejes: (0;0)
- Asíntotas verticales: $x = -1, x = 1$
 $x = -1 \Rightarrow \lim_{x \rightarrow -1^-} f(x) = -\infty; \quad \lim_{x \rightarrow -1^+} f(x) = +\infty$
 $x = 1 \Rightarrow \lim_{x \rightarrow 1^-} f(x) = -\infty; \quad \lim_{x \rightarrow 1^+} f(x) = +\infty$
- Asíntota oblicua: $y = x \Rightarrow \begin{cases} f(100) > A \sin t(100) \\ f(-100) < A \sin t(-100) \end{cases}$
- Monotonía y extremos:
 Creciente $(-\infty; -1,73) \cup (1,73; +\infty)$
 Decreciente $(-1,73; -1) \cup (-1, 1) \cup (1; 1,73)$
 Máximo $(-1,73; -2,6)$
 Mínimo $(1,73; 2,6)$
- Curvatura y puntos de inflexión:
 Cóncava: $(-\infty, -1) \cup (0, 1)$
 Convexa: $(-1, 0) \cup (1, +\infty)$
 Punto de inflexión: (0,0)

• Gráfica:

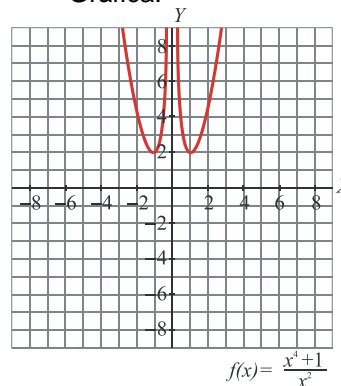


EJERCICIO 53 : Estudia y representa la función: $f(x) = \frac{x^4 + 1}{x^2}$

Solución:

- Dominio = $\mathbb{R} - \{0\}$
- Puntos de corte con los ejes: No tiene
- Asíntota vertical: $x = 0 \quad \lim_{x \rightarrow 0^-} f(x) = +\infty; \quad \lim_{x \rightarrow 0^+} f(x) = +\infty$
 Rama parabólica $\lim_{x \rightarrow +\infty} f(x) = +\infty; \quad \lim_{x \rightarrow -\infty} f(x) = +\infty$
- Monotonía y extremos:
 Creciente $(-1, 0) \cup (1, +\infty)$
 Decreciente $(-\infty, -1) \cup (0, 1)$
 Mínimo: $(-1, 2)$ y $(1, 2)$
- Curvatura y puntos de inflexión:
 Convexa: $\mathbb{R} - \{0\}$
 Punto de inflexión: No tiene

• Gráfica:



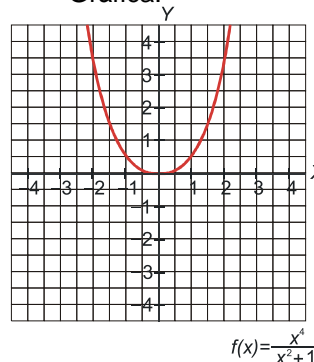
EJERCICIO 54 : Estudia y representa la función:

$$f(x) = \frac{x^4}{x^2 + 1}$$

Solución:

- Dominio = \mathbb{R}
- Puntos de corte con los ejes: (0,0)
- Asíntotas verticales: No tiene.
 Rama parabólica $\lim_{x \rightarrow +\infty} f(x) = +\infty; \quad \lim_{x \rightarrow -\infty} f(x) = +\infty$
- Monotonía y extremos:
 Creciente $(0, +\infty)$
 Decreciente $(-\infty, 0)$
 Mínimo: (0,0)
- Curvatura y puntos de inflexión:
 Convexa: \mathbb{R}
 Punto de inflexión: No tiene

• Gráfica:



EJERCICIO 55 :

a) Dibuja la gráfica de la función: $f(x) = \frac{x^3}{3} - x^2 - 3x$

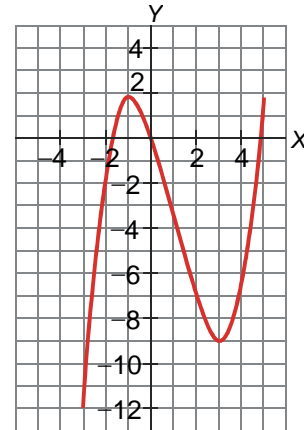
b) Ayúdate de la gráfica para estudiar los siguientes aspectos de $f(x)$: dominio, continuidad e intervalos de crecimiento y de decrecimiento.

Solución:

a)

- Dominio = \mathbf{R}
- Puntos de corte con los ejes: $(0,0)$, $(4,86;0)$ y $(-1,85;0)$
- Asíntotas verticales: No tiene.
Rama parabólica $\lim_{x \rightarrow +\infty} f(x) = +\infty$; $\lim_{x \rightarrow -\infty} f(x) = -\infty$
- Monotonía y extremos:
Creciente $(-\infty, -1) \cup (3, +\infty)$
Decreciente $(-1, 3)$
Máximo $(-1, 5/3)$
Mínimo: $(3, -9)$
- Curvatura y puntos de inflexión:
Cóncava: $(-\infty, -1)$
Convexa: $(-1, +\infty)$
Punto de inflexión: $(-1, -11/3)$

• Gráfica:



b) • Dominio = \mathbf{R}

- Es una función continua.
- Creciente en $(-\infty, -1) \cup (3, +\infty)$ y decreciente en $(-1, 3)$.